



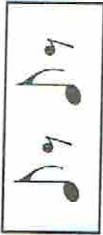

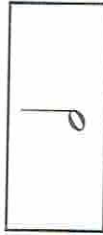







Rozlišení 2/4 a 3/4 taktu

Poznej 2/4 a 3/4 takt
a písmena zapiš na
příslušný řádek.

R		Í		Ž		K	
A		Š		Ž		Y	
Í		L		P		N	

$\frac{2}{4}$

$\frac{3}{4}$

Pan učitel vám
zahraje 5 písniček.
Zkus určit, jestli
jsou v taktu
dvoudoběm
nebo třídoběm.

1. písnička
2. písnička
3. písnička
4. písnička
5. písnička